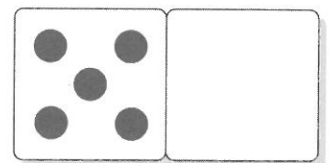

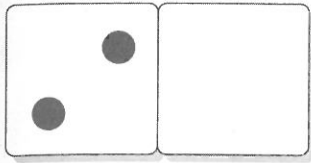


Pisz cyfry i znaki po śladzie.

0 1 2 3 4 5 6 7 8 9 10

= > <

Dorysuj oczka na kostkach, aby razem było ich tyle, ile wskazuje cyfra. Uzupełnij działania.




$$\square + \square = 4$$


$$\square + \square = 6$$

$$\square + \square = 8$$


Policz, ile zwierząt zostało. Uzupełnij działania.



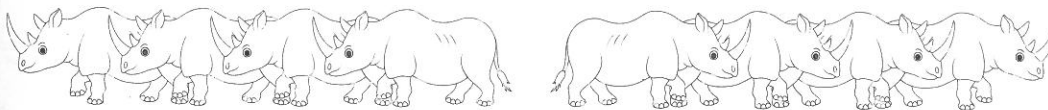
$$8 - 1 = \square$$



$$\square - \square = \square$$



$$\square - \square = \square$$



$$\square - \square = \square$$

Policz oczka na kostkach, porównaj ich liczbę. Wpisz w puste okienka odpowiednie cyfry i znaki.

